



### 7. Ünite: Küresel Bağlantılar

1.



Yukarıdaki görsele bakılarak aşağıdakilerden hangisi söylenemez?

- A) Kahve ihracatı sürekli artış göstermiştir.
- B) Kahve ithalatında Brezilya ilk sırayı almaktadır.
- C) Kahve ithalatı yıllara göre değişim göstermektedir.
- D) Ülkelerden farklı miktarlarda kahve ithal edilmektedir.

2. Eskiden tüccarlar ihtiyaç duyulan ürünleri alabilmek için İpek Yolu üzerinden binlerce kilometre yolu deve ve at sırtında giderek temin ediyordu. Kervanlarla yapılan yolculuklar çok uzun sürüyor ve taşınan mallar zarar görüyordu. Günümüzde ise modern tırlar, trenler, gemiler ve uçaklar var. Bu araçlar sayesinde ürünler çok uzak mesafelere kısa sürede zarar görmeden taşınabiliyor. Ayrıca günümüzde telefon, internet ve bankacılık alanındaki gelişmeler sayesinde farklı ülkelerdeki üreticilere dilediğimiz an ulaşabiliyor, onlarla kolayca ticaret yapabiliyoruz.

**Buna göre günümüzde;**

- I. İletişim
- II. Ulaşım
- III. Teknoloji

**alanlarında yaşanan gelişmelerden hangilerinin ticareti hızlandırdığı ve kolaylaştırdığı söylenebilir?**

- A) Yalnız I.
- B) I ve II.
- C) I ve III.
- D) I, II ve III.

## 7. Ünite: Küresel Bağlantılar

3.



### Türkiye Turunçgil İhracatında Yüzde 14 Büyüdü

Mersin'de Ulusal Turunçgil Konseyi 2016 yılı ihracat raporunu kamuoyu ile paylaştı. Raporda 2016 yılında 1 Milyon 672 bin ton turunçgil ihracatı karşılığında 880 milyon 259 bin dolar döviz girdisi sağlandığı açıklandı. Bu rakama göre ihracat artışı, bir önceki yıla göre yüzde 14 olarak gerçekleştirildi.

En çok artışın limon ve mandalınada gözlemlendiğini ifade eden Ulusal Konsey Başkanı, ülkemiz TÜİK verilerine göre 4.2 milyon tonluk turunçgil üretim rakamı ile dünyada turunçgil üreticisi ülkeler arasında 8. Sıraya, ihracatta ise 2. sıraya yükselmiştir. Turunçgilin ülkemiz ekonomisine sağladığı döviz girdisi ve istihdam katkısı turunçgil sektörünün önemli bir sektör olduğunun göstergesidir.

**Verilen bilgilere göre turunçgil ihracatı ile ilgili hangi çıkarımda bulunulamaz?**

- A) İnsanlara iş imkânı sağlamıştır.
- B) Ülke ekonomisine katkıda bulunmuştur.
- C) Turunçgil ihracatı üretiminden daha fazla olmuştur.
- D) Türkiye'nin dünya ihracat sıralamasındaki yeri yükselmiştir.

4. Türkiye'ye Rusya'dan gelen 100 kişilik bir turist kafilesi yolculuklarında hava yollarını tercih etmişler ve Antalya'da bir otelde 10 gün konaklamışlardır. Yöresel ürünleri çok beğenen grup ülkelerindeki yakınlarına hediye olarak türk kahvesi, lokum ve zeytinyağı götürmüşlerdir.

**Verilen örnek olayda aşağıdaki sektörlerden hangisinin doğrudan etkilendiği söylenemez?**

- A) Tarım
- B) Ulaşım
- C) Hayvancılık
- D) Hizmet

5. Turizmin ülkeler arasındaki ilişkilere farklı yönlerden etkisi söz konusudur. Örneğin turistler gittikleri ülkelerde birçok yeni mekanı ziyaret ederek, yeni insanlarla ve toplumlarla temasa geçmektedirler. Böylelikle farklı toplumlar birbiri ile karşılaşır ve neticede farklı inançlar, diller, etnik yapılar, yaşam tarzları birbirini tanır.

**Buna göre turizmin,**

- I. Sosyal
- II. Ekonomik
- III. Kültürel

**alanlardan hangilerine etkisinden bahsedilmiştir?**

- A) Yalnız I.
- B) I ve II .
- C) I ve III.
- D) II ve III.

## 7. Ünite: Küresel Bağlantılar

6. Farklı milletlerden birçok insan tarih boyunca dünyayı ortak yaşam alanı olarak kullanmıştır. Bir topluluğun geliştirdiği ürünleri ve elde ettiği bilgileri diğer topluluklar da kullanmıştır. Örneğin, pusula Çinliler tarafından icat edilmiştir ancak daha sonra diğer insan toplulukları da pusuladan yararlanmıştır. Pusula tüm insanlığa ait ortak bir değerdir. Bugün bile günümüzde dünyanın farklı bölgelerinde İbni Sina'nın tıp alanında verdiği tavsiyelere uyup sağlığına kavuşan insanlar bulunmaktadır.

**Buna göre aşağıdaki yargılardan hangisine ulaşılabilir?**

- A) Tıp alanında yaşanan gelişmelerin Avrupa'da ortaya çıktığına  
B) Geçmişten günümüze toplumlar arası etkileşim yaşandığına  
C) İnsanların bilime ve edebiyata olan ilgilerinin giderek azaldığına  
D) Merak duygusunun, insanları icat yapma konusunda harekete geçirdiğine

7.



**Ülkemize ait e-ticaret ve dijital teknoloji kullanım verilerini içeren bu görsel incelendiğinde aşağıdaki yargılardan hangisine ulaşılabilir?**

- A) E-ticaret müşterileri işlemlerini mobil bankacılıkla yapmaktadır.  
B) Ülke nüfusumuzun yaklaşık olarak yarısı internet kullanıcısıdır.  
C) Ülkemizde mobil bankacılık kullanımı sürekli artmaktadır.  
D) İnternet kullanıcıları aynı zamanda e-ticaret müşterisidir.

8.

### KÖPEKLERDE GÜNEŞ GÖZLÜĞÜ TAKAR

Veronica Dilullo, Midnight isimli köpeğini gezdirirken hayatını değiştirecek 'çılgın fikri' ile tanıştı. Güneş, tıpkı insanları olduğu gibi Midnight'ı da rahatsız ediyordu. Köpeğinin de güneş ışınlarından korunma hakkını olduğunu düşünen Dilullo, 'Doggles' adlı markasını kurdu ve ürününün patentini aldı.

Güneş gözlüğü takan köpeğinin fotoğraflarını internetten paylaşmaya başladığında ise 'Doggles'ın büyük bir şirket olma macerası başladı. Dilullo'nun yedi arkadaşı ile birlikte kurduğu bu şirkette pek çok kişi çalışmaktadır ve şirket 2010 yılında 3 milyon dolar kâr elde etmiştir.

**Buna göre Veronica Dilullo ile ilgili;**

- I. Girişimci bir yapıya sahiptir.
- II. Ülke ekonomisine katkıda bulunmuştur.
- III. Birçok kişiye iş imkânı sağlamıştır.

**yargılarından hangilerine ulaşılabilir?**

- A) Yalnız I.                      B) I ve II.                      C) II ve III.                      D) I, II ve III.

9.

İletişim teknolojileri sayesinde insanlar, ihtiyaç duydukları ürünler hakkında bilgi alabiliyor ve ürünleri sipariş edebiliyor. Kullandıkları ürünler hakkında şikayetlerini yetkililere iletebiliyor ve gerektiğinde ürünün nasıl iade edileceğini öğrenebiliyor.



**Buna göre iletişim teknolojilerinden yararlanmaya;**

- I. Ürün fiyatlarının karşılaştırılması
- II. Ürün değişimi için araştırma yapılması
- III. Yeni bir ürün için sipariş verilmesi

**gelişmelerinden hangileri örnek gösterilebilir?**

- A) Yalnız I.                      B) I ve II.                      C) II ve III.                      D) I, II ve III.

## 7. Ünite: Küresel Bağlantılar

10. Ülkemize gelen turistlerin nerelerden geldiği incelendiğinde daha çok; yaz turizminin gelişim gösterdiği bölgeye gelen turistin deniz turizminin gelişmediği soğuk iklim bölgelerinden geldiği görülmüş kış turizminin yapıldığı soğuk bölgelere gelen turistlerin ise deniz turizminin etkili olduğu ılıman iklim bölgelerinden geldiği görülmüştür.

**Buna göre turizm faaliyetleri tercihlerinde aşağıdakilerden hangisinin dikkate alındığı söylenebilir?**

- A) İklim özellikleri
- B) Konaklama imkanları
- C) Tarihi eserlerin fazla oluşu
- D) Bölgede turistlere davranış şekli

11.

**Kapımı açık bırakıp uyuyabiliyorum.**

2007 yılında Brezilya'dan ve Türk folklorik dansları konusunda kısa süreli eğitim almak için Türkiye'ye gelen ve Kapadokya'yı ziyaret ettikten sonra bölgede yaşamaya karar veren dans eğitmeni Maria Clara Lagoeria Sussekind Türk misafirperverliğine hayranlık duyduğunu anlattı. Sussekind: Bu kültür, bu insanlar, bu toprak kalbime girdi. Akşamları bütün satıcılar sattığı eşyaları dışarıda bırakıp gidiyor. Herhangi bir sıkıntıyla karşılaşmıyor. Burası çok güvenli, sakin, harika bir yer.

**Verilen bilgilere göre aşağıdakilerden hangisi Brezilyalı turistin ülkemize yerleşme nedenlerinden biri değildir?**

- A) Halkın gelen turistlere iyi davranması
- B) Ticaretle uğraşmaya başlaması
- C) Türk kültürünü beğenmesi
- D) Güvenli bir yer olması

12. Ülkemizden başka ülkelere kaçırılıp Türkiye'nin girişimi ile geri getirilen bazı ortak miras eserleri şunlardır:

- Tunç Vazo (A.B.D.) (1982)
- Bursa Osmanlı Evi Müzesi'nden Çalınan Şamdanlar (Londra) (1991)
- Efes Örenyeri'nden Çalınan Kadın Başı (Avusturalya) (1997)
- Sultan II.Adbülhamit ve kızı Ayşe Osmanoğlu'na ait eşyalar (Paris) (2005)

**Buna göre aşağıdaki yargılardan hangisine ulaşamaz?**

- A) Türkiye ortak miras eserlerinin ait olduğu topraklarda kalmasını istemiştir.
- B) Kaçırılan eserler arasında Osmanlı'ya ait olanlar bulunmaktadır.
- C) Efes Örenyeri'nden kaçırılan eser en değerli olanıdır.
- D) Türkiye ortak mirasa önem vermektedir.

## 7. Ünite: Küresel Bağlantılar

13. Rize'nin İkizdere ilçesinin Anzer Yaylası'ndaki Ballıköy'de üretilen Anzer balı için yedi ülkeden yaklaşık 1200 kişi sipariş verdi. Yaylada 200 üretici yaklaşık bin kovanda üretim yapmaktadır. Hava koşullarının iyi seyretmesi halinde balda iyi bir rekolte (verim) elde edilmektedir. Türkiye'nin yanı sıra Almanya, Fransa, İngiltere, Hollanda, Suudi Arabistan ve İsrail'den bal siparişi gelmiştir. Üretilen bal geçen yıl talepleri karşılayamamış, bu yıl da karşılayamayacağı ön görülmektedir.

**Gazete haberinden alınan bu bilgilere göre Anzer Balı ile ilgili;**

- I. İhraç edilen ürünlerimiz arasındadır.
- II. Üretimi doğal koşullardan bağımsızdır.
- III. Üretim miktarı tüketim miktarından fazladır.

**yargılarından hangilerine ulaşılabilir?**

- A) Yalnız I.                      B) I ve II.                      C) II ve III.                      D) I, II ve III.

14.



İstanbul İl Kültür ve Turizm Müdürlüğü verilerine göre 2017 Temmuz ayından bir önceki Temmuz ayına göre yabancı turist sayısının %43 oranında artış kaydettiği vurgulandı. Bu yıl gelen yabancı konukların milliyetlere göre dağılımlarına bakıldığında İstanbul'u en çok ziyaret edenler Almanlar oldu. Almanları sırasıyla İranlılar, Suudi Arabistanlılar, Iraklılar ve Ruslar takip etti.

**Verilen gazete haberine göre;**

- I. İstanbul'a bir önceki yıla göre daha fazla turist gelmiştir.
- II. İstanbul'u farklı coğrafyalardan milletler ziyaret etmektedir.
- III. İstanbul, yabancı turistler tarafından tercih edilmektedir.

**çıkarımlarından hangilerine ulaşılabilir?**

- A) Yalnız I.                      B) I ve II.                      C) II ve III.                      D) I, II ve III.

## 7. Ünite: Küresel Bağlantılar

15.

Zeytin (1kg)		03/10/2018 tarihinde yürürlüğe giren düzenleme ile ülkemizde üretilen ürünlerin fiyat etiketinde "Yerli Üretim" logosu bulunması zorunlu hale getirilmiştir. Bu etikette malın üretim yeri gibi bilgiler bulunmaktadır. Etiket tüketiciler tarafından kolaylıkla görünebilir ve okunabilir şekilde olmalı, etiket üzerinde vergiler dahil satış ve birim fiyatı yazmalıdır.
Satış Fiyatı	22 TL	
Birim Fiyatı	22 TL/kg	
Fiyat Değişikliği Tarihi	22.01.2020	
Üretim Yeri	TÜRKİYE	

**Gümrük ve Ticaret Bakanlığı'nca yürürlüğe konulan bu kanunla;**

- I. Tüketicinin ürün hakkında bilgi sahibi olmak
- II. Ürünün nerede üretildiği konusunda tüketiciyi bilgilendirmek
- III. Tüketicuyu bilinçli hale getirmek

**hedeflerinden hangilerine ulaşılmaya çalışıldığı söylenebilir?**

- A) Yalnız I.                      B) I ve II.                      C) II ve III.                      D) I, II ve III.

16. Ortak miras insanlığın tarih boyunca sonraki kuşaklara bıraktığı maddi ve manevi değerlerin tümüne verilen addır. Ortak miras eserleri bulunduğu ülkenin dışında diğer milletlere de ait kabul edilir. Tüm milletlerin ortak miras eserlerinden faydalanma hakkı bulunmaktadır. İnsalığın ortak mirası olarak kabul edilen maddi ve manevî değerleri korumak ve sahip çıkmak tüm insanların görevidir.

**Aşağıdakilerden hangisi bu duruma kanıt olarak gösterilemez?**

- A) Efes Antik Kentine gelen turistin giderken hatıra olarak bir mermer kalıntısını götürmesi
- B) Graham Bell'in icat ettiği telefonun geliştirilerek tüm dünyada kullanılması
- C) Victoria Şelalesi'ni farklı ülkelerden gelen turistlerin gezmesi
- D) Mevlana'nın eserlerinin farklı dillere çevrilip okunması

17. Dünyada ulaşım teknolojisinin gelişmesiyle birlikte uluslar arası ticaret hacmi artmış, adeta bir dünya pazarı kurulmuştur. Türkiye'de üretilen fındık kısa süre içerisinde İngiltere'ye, Rusya'dan çıkarılan doğalgaz Almanya'ya, Japonya'da üretilen bir otomobil Mısır'a pazarlanmaktadır.

**Buna göre ulaşım teknolojisindeki gelişmelerin;**

- I. Tarım
- II. Enerji
- III. Sanayi

**faaliyetlerinden hangilerinin gelişmesine katkı sağladığı söylenebilir?**

- A) Yalnız I.                      B) I ve II.                      C) II ve III.                      D) I, II ve III.

## 7. Ünite: Küresel Bağlantılar

18.

Mersin Akdeniz ikliminin tüm güzelliği ve bereketiyle yaşandığı bir şehirdir. Temiz ve oldukça uzun kıyı şeridimizde yaz aylarında hem yerli hem de yabancı turist akını olmaktadır. Gelen turistler bölgenin kültürel değerlerine de ayrı bir ilgi göstermektedirler. Tarsus, Silifke ve Erdemli de bulunan ilk Hristiyanlık dönemine ait kilise ve tarihi buluntular önemli ziyaret alanlarıdır. Çevre ilçelerdeki üretilen kaliteli zeytin ve turunçgiller yurt dışına ihraç edilmektedir. İhracat için ülkemizin en büyük limanlarından biri olan Mersin Limanı kullanılmaktadır.

**Buna göre Mersin ilinin ülkemiz ekonomisine hangi alanda katkı sağladığı söylenemez?**

A) Turizm

B) Ulaşım

C) Madencilik

D) Tarım

19.



**Bu haberdan hareketle Kocaeli ile ilgili aşağıdaki yorumlardan hangisi yapılamaz?**

A) Üç kıtanın birbirine bağlandığı bir noktada bulunmaktadır.

B) Coğrafi konumu ticarete gelişmesinde etkili olmuştur.

C) Ülke ekonomisine önemli bir katkı sağlamıştır.

D) Dış ticarete önemli bir yere sahiptir.

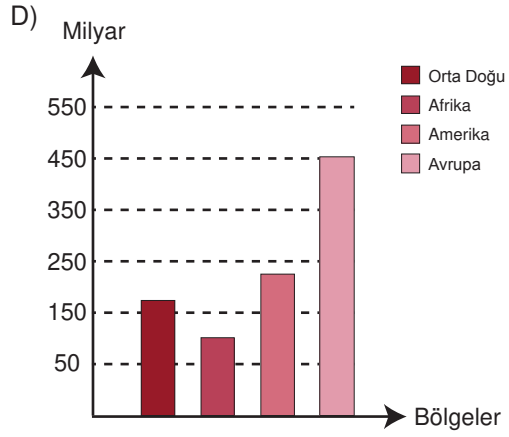
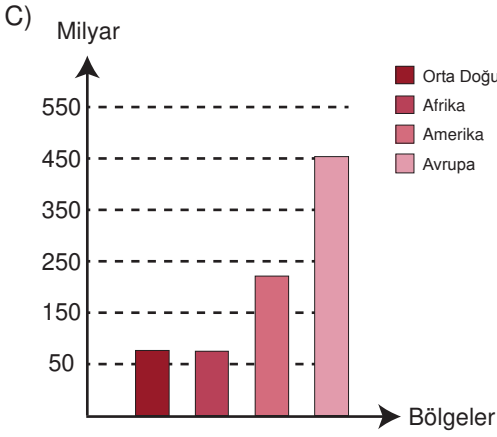
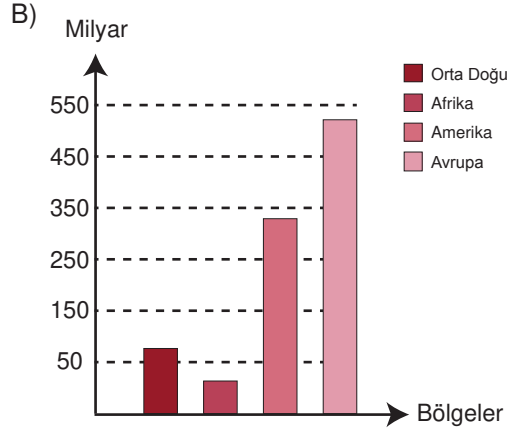
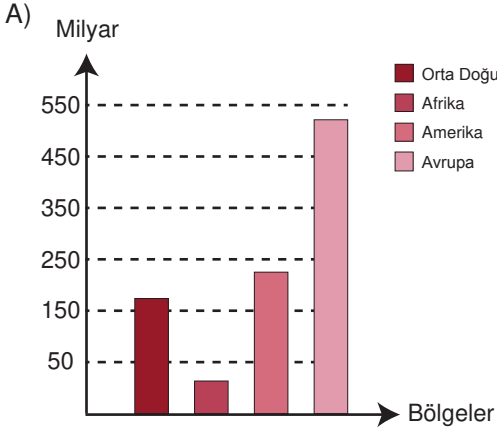


## 7. Ünite: Küresel Bağlantılar

20. 2017-2018 Dünya turizm gelirinin bölgelere göre dağılımını gösteren tablo aşağıda verilmiştir.

Bölgeler	Turizm Geliri (milyar dolar)
Avrupa	519.6
Amerika	326.2
Afrika	36.8
Orta Doğu	67.4

Tabloda verilen bilgilere göre söz konusu bölgelerin turizm gelirine ait grafiği aşağıdakilerden hangisidir?



Cevap anahtarına ulaşmak için karekodu okutunuz.